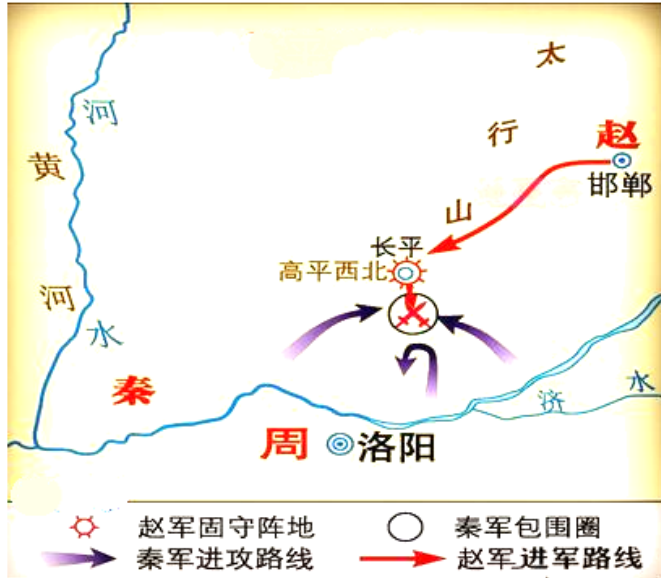


2023 年九年级学业水平模拟考试历史试卷

一、选择题（本大题共 20 小题，每小题 2 分，共 40 分。在每小题列出的四个选项中有一个符合题意，请将答案按要求填涂在答题卡的相应位置）

1. 小唐同学在网上搜集历史资料时发现下图，它可用于帮助小唐研究（ ）



A. 西周分封 B. 春秋争霸 C. 战国形势 D. 楚汉之争

2. 很多古籍文献中都有张骞引入“胡种”记录，如《西京杂记》载：“苜蓿原出大宛，汉使张骞带归中国。”明代李时珍在《本草纲目》中描述胡瓜时也讲到：“张骞使西域得种，故名‘胡瓜’。”从材料可以看出张骞出使西域（ ）

A. 建立了汉对西域的有效管辖 B. 丰富了中原人物质生活
C. 密切了汉与西域各民族关系 D. 推动了丝绸之路的形成

3. 下列选项中，对应正确 是（ ）

A. 贾思勰——《农政全书》——我国现存的第一部农书
B. 司马光——《资治通鉴》——我国第一部纪传体通史巨著
C. 关汉卿——《窦娥冤》——“元曲四大家”之一
D. 华佗——发明“麻沸散”——医圣

4. 文化地标成为热门的网红打卡地，文旅融合唤醒着城市的记忆，如紫禁城见证着北京城的过往，那么唤醒对古都南京记忆的是（ ）

A. 秦俑故乡，丝路源头 B. 六朝古都，金陵风韵
C. 繁华汴水，精彩开封 D. 千古宋城，梦回临安

5. 下表所示信息折射出隋朝（ ）

事项	概况	出处
修通通济渠	公元 605 年，发河南诸郡男女百余万，经 6 个月，修成	《隋书· 炀帝纪》
修通永济渠	公元 608 年，诏发河北诸郡男女百余万，经 1 个月，修成	《隋书· 炀帝纪》
改造邗沟	公元 605 年，征淮南民数十万，数月，修成	《资治通鉴· 炀帝纪》

- A. 国家体制优势

B. 百姓赋税沉重
- C. 中央集权受到严峻挑战

D. 运河修建技术领先世界
6. 学者吕思勉认为“ 唐代天宝之乱，原因孔多，边兵之重，要为其大者”。该学者认为安史之乱爆发的主要原因是（ ）
- A. 君主专制遭到严重削弱

B. 藩镇割据局面形成
- C. 地方完全脱离中央管控

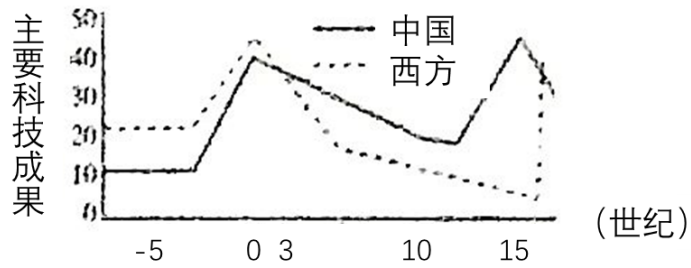
D. 边疆军事防务所致
7. 文化认同是人们在 一个民族共同体中长期共同生活所形成的基本价值的认同。下列图片说明了明清时期，中华民族文化认同的主要特征是（ ）



- A. 儒学的独尊和完善

B. 尊师重教的风气
- C. 官僚机构日益膨胀

D. 皇权的不断强化
8. 观察如图，中国古代科技发展的第二次高峰发生在（ ）



中国、西方古代科技成果比较

- A. 秦汉时期 B. 魏晋时期 C. 宋元时期 D. 明清时期

9. 周恩来曾在《解放》刊文指出：“十年来中国统治阶级与革命的民众之间的长期战争是停止了，现在正将进入中国政治历史新的一页，即在民主统一的基础上，巩固国内团结，加速准备抗战的一页。根据民主主义的根基，来召集国民大会，则将是这一页新历史的起首。”周恩来撰写该文的背景是（ ）

- A. 西安事变得以和平解决 B. 重庆和谈达成民主建国共识
C. 抗日民族统一战线建立 D. 解放战争即将取得全国胜利

10. 1938年4月9日伦敦路透社报道：“英军事当局对于中国津浦线之战局极为注意，最初中国军获胜之消息传来，各方面尚不十分相信，但现已证明日军溃败之讯确为事实。”上述报道的战役（ ）

- A. 打破了日军“不可战胜”的神话 B. 是抗战以来中国正面战场取得的最大的一场胜仗
C. 使抗日战争进入相持阶段 D. 使日本企图迅速灭亡中国的既定战略彻底破灭

11. 下图是法国某报刊登的关于晚清的一场战事的图片。该战事的后果是（ ）



- A. 使中国开始沦为半殖民地半封建社会 B. 掀起了瓜分中国的狂潮
C. 使帝国主义侵略势力深入中国内地 D. 中国完全沦为半殖民地半封建社会

12. 在解放战争中，据东北行政委员会民政部 1949 年 3 月 20 日所作的统计，东北解放三年来，参战民工达 3132572 人，担架 306178 付，大车 306718 辆，马 907021 匹。农民群众对解放战争的大力支援是因为（ ）

- A. 抗日战争取得胜利 B. “双十协定”的签订

- C. 解放区的土地改革 D. 《土地改革法》颁布

13. 下图《关起门来打死狗》是张汀先生的漫画作品，该漫画反映的战役（ ）



- A. 使华北全境基本解放 B. 结束了国民党在大陆的统治
C. 解放了长江中下游以北广大地区 D. 解放了东北全境

14. 改革开放以来汉族地区与少数民族地区发展不平衡，为防止差距的进一步拉大，国家增加对少数民族地区的投资，在少数民族地区尽量多办一些能源、原材料加工业项目，以保持各民族各地区的协调。这体现了我国（ ）

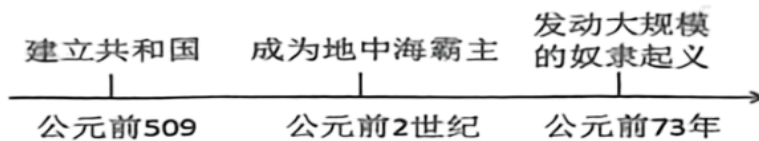
- A. 关注少数民族的工业发展 B. 实行各民族共同繁荣的政策
C. 重视对少数民族文化的保护 D. 实现了少数民族的当家做主

15. 下表是《1949—2017 年与中国建交国家数量统计表》。从中可以得知

年份	1949 年	1959 年	1969 年	1979 年	1989 年	1999 年	2017 年
国家数量	10	34	45	120	136	162	175

- A. 我国成为建交国家数量最多的国家 B. 改革开放后综合国力大大增强
C. 中国注重发展与周边国家友好关系 D. 我国的国际地位在不断的提高

16. 下图是某个国家的发展的重大事件时间数轴示意图，下列关于这个国家说法不正确的是（ ）



- A. 地中海成为这个国家的“内湖” B. 颁布了欧洲的第一部成文法
C. 公民大会是形式上的最高权力机关 D. 编制新的历法“儒略历”

17. 从1713年到1792年，英属加勒比海岛屿殖民地向其宗主国大不列颠输送了总值达1.62亿英镑的货物，是同时期大不列颠从中国和印度进口货物总值的一半多。由此可见（ ）

- A. 新航路开辟推动欧洲整体发展 B. 资本原始积累具有野蛮性
C. 殖民掠夺为英国带来大量财富 D. 英国是三角贸易的主导者

18. 张丽同学在校的宣传栏看到以“拉美民族解放运动”为主题的学术讲座海报，下面与本次报告内容相

关的历史事件是（ ）

- A. 章西女王抗击英国的殖民者

B. 玻利瓦尔抗击西班牙的殖民统治
- C. 甘地领导非暴力不合作运动

D. 埃及纳赛尔领导的民族独立运动

19. 罗斯福说：“德日把不帮助轴心国的一切民族和国家当作全体轴心国共同的敌人，这就是他们简单的总战略。所以，只有类似的总战略才能与之抗衡。”罗斯福说的“类似的总战略”指的是（ ）

- A. 苏美英决定成立联合国

B. 美英等国建立“北约”
- C. 建立国际反法西斯联盟

D. 美国对德、日等轴心国宣战

20. 有观点认为：“21 世纪全球将出现‘大国群体体系’：美国支配下的北美、一体化的欧洲、日本和中国居突出地位的东亚、印度称雄的南亚、横跨北非和中东的新月形地带，其中北美、欧洲、东亚三大群体将起决定性作用。”据此判断（ ）

- A. 国际政治新秩序已经建立

B. 世界朝多极化方向发展
- C. 霸权主义与地区冲突频仍

D. 国际力量已走向失衡

二、综合题（本大题共 4 小题，共 40 分。其中 21 题 7 分，22 题 8 分，23 题 12 分，24 题 13 分）

21. 阅读下列材料，回答问题。小清同学学习初中历史后，对中国古代社会经济的发展进行了整理，以下是他的学习笔记：

<div> <div>笔记一</div> <div>主题：中国不同时期农业发展概况</div> <div>内容：</div> <div>1. 原始社会时期：种植农作物、饲养家畜</div> <div>2. 春秋战国时期：铁制农具和牛耕出现并推广</div> <div>3. 魏晋南北朝时期：推广和改进犁耕，实行精耕细作</div> <div>4. _____</div> </div>	<div> <div>笔记二</div> <div>主题：_____</div> <div>内容：</div> <div>1. _____</div> <div>—</div> <div>2. _____</div> <div>—</div> <div>3. _____</div> <div>—</div> <div>4. _____</div> <div>—</div> </div>
--	--

- (1) 请补全笔记一内容。
- (2) 请根据下列提供的学习内容，参照笔记一完成笔记二。

青铜器的铸造、早市、夜市和草市的出现、四川地区出现纸币“交子”、闻名中外的唐三彩、景德镇成为全国制瓷中心、都城长安成为国际性的大都会、广州和泉州的造船业在世界上居于领先地位、出现晋商和徽商等商帮、形成了商业网。

22. 阅读下列材料，回答问题。

历史兴趣小组开展以“中外历史上的革命”为主题的探究活动，以下是他们收集的革命领导人物图片组成的图谱：



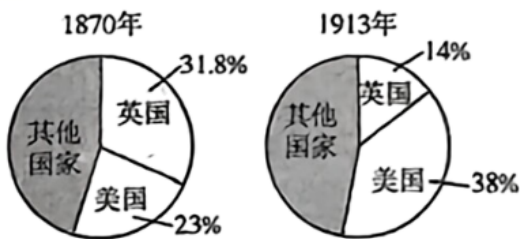
①孙中山 ②克伦威尔 ③华盛顿 ④列宁 ⑤卡斯特罗

(1) 请从图中任选两位人物，分别简述其突出贡献或主要事迹。

(2) 请在上面图谱中增加两幅相关的领导人物图片（只写人名），并结合所学知识概括决定革命成败的主要因素。

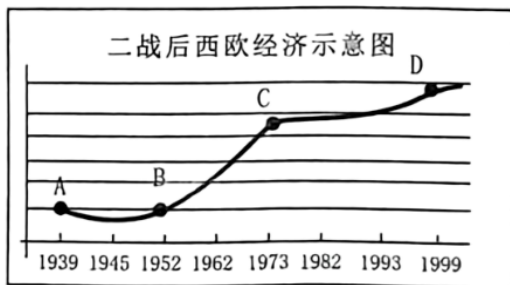
23. 阅读材料，回答问题。

材料一 主要资本主义国家在世界工业生产总值中比重变化示意图



(1) 根据材料一，说明美国经济地位发生了什么变化？并结合所学知识，分析发生这种变化的主要原因。

材料二



(2) 分析材料二，指出西欧经济高速发展是在哪一阶段？（用字母表示，如：A—B）结合所学，西欧经济

发展对世界政治格局产生了怎样的影响？

材料三 二战后，日本国内生产总值的增长（单位：亿美元）

年份	1952	1958	1965	1970	1976
产值	173	320	1026	1969	5544

(3) 根据材料三回答，战后日本经济出现怎样的现象？

(4) 综合以上材料，你认为怎样才能促进国家经济发展？

24. 为迎接党的“二十大”胜利召开，九年级（1）班的同学们以“颂党恩，跟党走”为主题制作了如下展板，请你完成相关问题。

【绘画中承载民族希望】



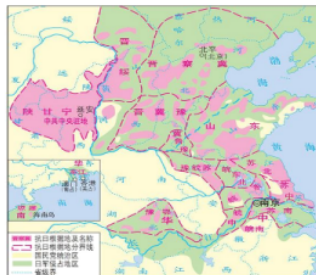
图一 何红舟、黄发祥《启航——中共一大会议》油画

(1) 请结合史实，简述图中反映的历史故事。（要求：语言简洁，观点正确，思想健康）

【地图中感受道路抉择】



图二 1929-1932 年农村革命根据地分布示意图



图三 1937-1940 年敌后抗日根据地形势图

(2) 图二反映出中国共产党开辟了怎样的革命道路？比较两幅图片并结合所学知识，指出中国共产党的革命中心发生了什么变化？

【诗歌中诠释精神内涵】

《七律. 长征》

红军不怕远征难，万水千山只等闲。
五岭逶迤腾细浪，乌蒙磅礴走泥丸。

.....


《七律. 人民解放军占领南京》

钟山风雨起苍黄，百万雄师过大江。
虎踞龙盘今胜昔，天翻地覆慨而慷。

...

(3) 这两首诗歌体现了中国共产党怎样的革命情怀？

【实物中见证历史发展】



图四 1951 年政府向农民颁发土地所有证 图五 1978 年凤阳小岗村 18 位农民的秘密契约

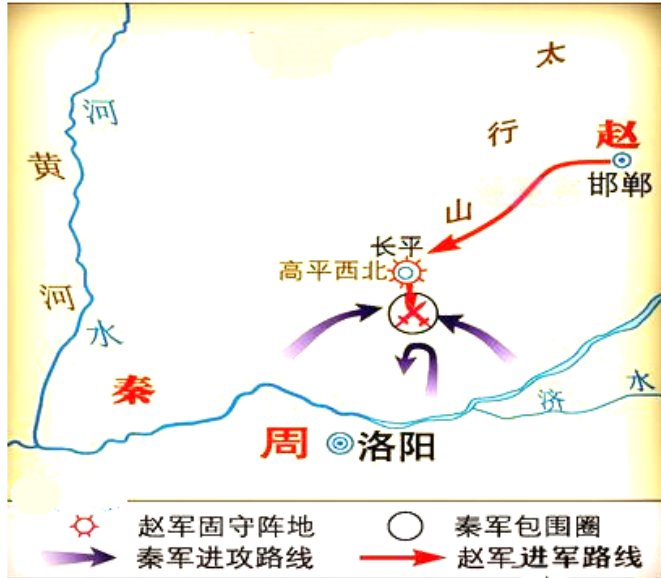
(4) 结合所学知识回答，以上两件实物图片所反映的历史事件有什么共同作用？

(5) 综合以上材料，谈谈你的历史感悟。

2023 年九年级学业水平模拟考试历史试卷

一、选择题（本大题共 20 小题，每小题 2 分，共 40 分。在每小题列出的四个选项中有一个符合题意，请将答案按要求填涂在答题卡的相应位置）

1. 小唐同学在网上搜集历史资料时发现下图，它可用于帮助小唐研究（ ）



- A. 西周分封 B. 春秋争霸 C. 战国形势 D. 楚汉之争

【答案】C

【解析】

【详解】根据材料信息“长平之战”结合所学可知，长平之战是公元前 260 年秦国与赵国在长平发生的一场战斗。此战，赵国一方惨败，秦国不仅占领了长平，还全歼了赵国军队 45 万，所以，长平之战之后，东方六国再也无力抵抗秦军的进攻。故长平之战发生在战国时期，根据题意，C 项正确；西周时期实行分封制、春秋时期诸侯争霸、楚汉之争是刘邦和项羽争之间夺地位的战争，都与长平之战无关，排除 ABD 项。故选 C 项。

2. 很多古籍文献中都有张骞引入“胡种”的记录，如《西京杂记》载：“苜蓿原出大宛，汉使张骞带归中国。”明代李时珍在《本草纲目》中描述胡瓜时也讲到：“张骞使西域得种，故名‘胡瓜’。”从材料可以看出张骞出使西域（ ）

- A. 建立了汉对西域的有效管辖 B. 丰富了中原人物物质生活
C. 密切了汉与西域各民族关系 D. 推动了丝绸之路的形成

【答案】B

【解析】

【详解】根据材料“很多古籍文献中都有张骞引入‘胡种’的记录”“苜蓿原出大宛，汉使张骞带归中国”

“张骞使西域得种，故名‘胡瓜’”结合所学知识可知，西汉汉武帝时期，张骞通西域后，西域的葡萄、核桃、苜蓿、石榴、胡萝卜和良马、地毯等传入内地，汉族的铸铁、凿井等技术和丝织品、金属工具等，传到了西域，促进了西域的经济发展和社会的进步，丰富了中原人民的生活，B项正确；公元前60年，西域都护的设置，标志着西域正式归属中央政权，西域都护对西域地区进行有效的管辖，排除A项；张骞出使西域，促进了汉朝和西域各国之间的相互了解和往来，材料没有体现张骞出使西域，密切了汉与西域各民族关系，排除C项；汉武帝两次派张骞出使西域，打通了中国与中亚、西亚、南亚乃至通往欧洲的陆路交通，从此正式开启了中国与中亚、西亚、南亚、欧洲以丝绸为主要商品的贸易往来，材料体现不出张骞出使西域，推动了丝绸之路的形成，排除D项。故选B项。

3. 下列选项中，对应正确的是（ ）

- A. 贾思勰——《农政全书》——我国现存的第一部农书
- B. 司马光——《资治通鉴》——我国第一部纪传体通史巨著
- C. 关汉卿——《窦娥冤》——“元曲四大家”之一
- D. 华佗——发明“麻沸散”——医圣

【答案】C

【解析】

【详解】结合所学可知，《窦娥冤》是元代戏曲家关汉卿创作的杂剧，关汉卿“元曲四大家”之一，C项正确；《农政全书》是明代徐光启创作的农书，排除A项；《资治通鉴》是我国第一部编年体通史巨著，排除B项；医圣是张仲景，排除D项。故选C项。

4. 文化地标成为热门的网红打卡地，文旅融合唤醒着城市的记忆，如紫禁城见证着北京城的过往，那么唤醒对古都南京记忆的是（ ）

- A. 秦俑故乡，丝路源头
- B. 六朝古都，金陵风韵
- C. 繁华汴水，精彩开封
- D. 千古宋城，梦回临安

【答案】B

【解析】

【详解】根据题干“古都南京”结合所学知识，“六朝古都，金陵风韵”指的是孙吴（或称东吴、三国吴）、东晋、南朝宋（或称刘宋）、南朝齐（或称萧齐）、南朝梁（或称萧梁）、南朝陈这六个朝代，都城都在南京，B项正确；“秦俑故乡，丝路源头”指的是长安，排除A项；北宋以开封为东京，作为都城，排除C项；“千古宋城，梦回临安”指的是临安，是南宋的都城，排除D项。故选B项。

5. 下表所示信息折射出隋朝（ ）

事项	概况	出处

修通通济渠	公元 605 年，发河南诸郡男女百余万，经 6 个月，修成。	《隋书· 炀帝纪》
修通永济渠	公元 608 年，诏发河北诸郡男女百余万，经 1 个月，修成。	《隋书· 炀帝纪》
改造邗沟	公元 605 年，征淮南民数十万，数月，修成	《资治通鉴· 炀帝纪》

- A. 国家体制优势

B. 百姓赋税沉重
- C. 中央集权受到严峻挑战

D. 运河修建技术领先世界

【答案】 A

【解析】

【详解】依据题干信息“发河南诸郡男女百余万”“诏发河北诸郡男女百余万”“征淮南民数十万”，结合所学可知，589年隋朝灭“陈”政权，统一南北，扩大和加强了君主专制的中央集权制度，政令统一，可以集中力量办大事，办成大事，A项正确；由题干材料看出朝廷征的是徭役，不是赋税，排除B项；中央集权受到严峻挑战与题干材料不符，排除C项；题干材料未提到运河的修建技术，排除D项。故选A项。

6. 学者吕思勉认为“唐代天宝之乱，原因孔多，边兵之重，要为其大者”。该学者认为安史之乱爆发的主要原因是（ ）

- A. 君主专制遭到严重削弱

B. 藩镇割据局面形成
- C. 地方完全脱离中央管控

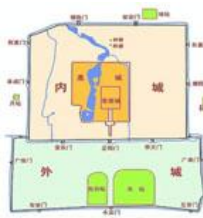
D. 边疆军事防务所致

【答案】 D

【解析】

【详解】根据材料“唐代天宝之乱，原因孔多，边兵之重，要为其大者”可知，材料内容认为唐代天宝之乱出现的原因众多，其中边防之兵力量的壮大是主要原因，这说明吕思勉先生认为安史之乱爆发的主要原因是中央对边疆军务防务不得当，D项正确；中国历朝历代，我国专制主义是逐渐加强的趋势，并且材料内容强调的是地方割据力量壮大，导致中央集权遭到削弱，而不是强调君主专制遭到削弱，排除A项；安史之乱爆发的主要原因是节度使权力膨胀，藩镇割据局面形成是安史之乱的影响，不是安史之乱爆发的原因，排除B项；材料内容强调的是地方割据力量壮大，但不代表完全脱离中央管控，排除C项。故选D项。

7. 文化认同是人们在—一个民族共同体中长期共同生活所形成的基本价值的认同。下列图片说明了明清时期，中华民族文化认同的主要特征是（ ）



明北京城



锦衣卫印



南京贡院科举考场



军机处

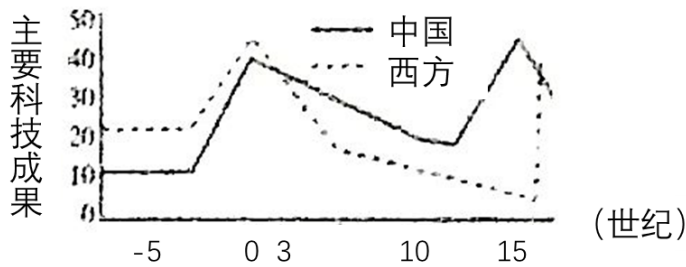
- A. 儒学的独尊和完善
B. 尊师重教的风气
C. 官僚机构日益膨胀
D. 皇权的不断强化

【答案】D

【解析】

【详解】根据材料“北京城、锦衣卫印、南京贡院科举考场、军机处”可知，材料体现了明清时期，皇权不断强化。明朝时期，统治中心在北京；为了巩固统治，设置了锦衣卫，直接对皇帝负责；为了加强思想控制，实行八股取士；清朝时期设置了军机处，使皇权达到了顶峰。D项正确；材料不能体现儒学的独尊和完善，排除A项；材料不能体现尊师重教，排除B项；材料没有涉及官僚机构日益膨胀，排除C项。故选D项。

8. 观察如图，中国古代科技发展的第二次高峰发生在（ ）



中国、西方古代科技成果比较

- A. 秦汉时期
B. 魏晋时期
C. 宋元时期
D. 明清时期

【答案】C

【解析】

【详解】根据图片信息可知，13世纪前后，是中国古代科技发展的第二次高峰，结合所学知识可知，宋元时期是我国古代科技发展的高峰时期，宋朝（960年—1279年）在中国历史上有大量的科技发明，当时领先世界的科技成就有北宋毕昇发明活字印刷术；指南针广泛应用于航海；火药武器在军事上广泛应用。宋代在科学技术方面达到了古代社会的鼎盛时期，成为中国科技发展史上更加光辉灿烂的一页。C项正确；秦汉时期、明清时期，与史实不符，排除AD项；中国古代科技发展的第一个高峰期是处于魏晋南北朝时期，排除B项。故选C项。

9. 周恩来曾在《解放》刊文指出：“十年来中国统治阶级与革命的民众之间的长期战争是停止了，现在正将

进入中国政治历史新的一页，即在民主统一的基础上，巩固国内团结，加速准备抗战的一页。根据民主主义的根基，来召集国民大会，则将是这一页新历史的起首。”周恩来撰写该文的背景是（ ）

- A. 西安事变得以和平解决
- B. 重庆和谈达成民主建国共识
- C. 抗日民族统一战线建立
- D. 解放战争即将取得全国胜利

【答案】A

【解析】

【详解】据材料“十年来中国统治阶级与革命的民众之间的长期战争是停止了，现在正将进入中国政治历史新的一页，即在民主统一的基础上，巩固国内团结，加速准备抗战的一页。”并结合所学可知，中国十年内战停止的标志是西安事变的和平解决，揭开了国共两党由分裂对峙走向合作抗日的开始，A项正确；重庆和谈是在抗日战争胜利之际，中国共产党和中国国民党两党就中国未来的发展前途、建设大计在重庆进行的一次历史性会谈，排除B项；1937年9月抗日民族统一战线正式建立，与材料“巩固国内团结，加速准备抗战的一页”不符，排除C项；材料反映的是抗日战争时期，排除D项。故选A项。

10. 1938年4月9日伦敦路透社报道：“英军事当局对于中国津浦线之战局极为注意，最初中国军获胜之消息传来，各方面尚不十分相信，但现已证明日军溃败之讯确为事实。”上述报道的战役（ ）

- A. 打破了日军“不可战胜”的神话
- B. 是抗战以来中国正面战场取得的最大的一场胜仗
- C. 使抗日战争进入相持阶段
- D. 使日本企图迅速灭亡中国的既定战略彻底破灭

【答案】B

【解析】

【详解】根据材料“1938年4月9日”“对于中国津浦线之战局”“日军溃败”结合所学可知，台儿庄战役又称台儿庄会战、血战台儿庄，是1938年3月至4月中旬中国军队在山东省台儿庄与意图由山东分两路进攻徐州的日军师团精锐进行的战役，日军第5师团板垣征四郎主攻临沂，第10师团矶谷廉介主攻滕县、临城、台儿庄。这场战役是抗日战争中徐州会战的一部分，因为是对日抗战爆发后国军首次取得的胜利，又称为台儿庄大捷。台儿庄大捷是抗日战争时期的一次重大胜利，也是徐州会战中中国军队取得的一次重大胜利，B项正确；平型关大捷打破了日军“不可战胜”的神话，极大地振奋了全国军民的抗战信心，提高了共产党和八路军的声望，排除A项；武汉会战后，抗日战争进入相持阶段，排除C项；武汉会战历时4个多月，使日本企图迅速灭亡中国的既定战略彻底破灭，排除D项。故选B项。

11. 下图是法国某报刊登的关于晚清的一场战事的图片。该战事的后果是（ ）



- A. 使中国开始沦为半殖民地半封建社会
B. 掀起了瓜分中国的狂潮
C. 使帝国主义侵略势力深入中国内地
D. 中国完全沦为半殖民地半封建社会

【答案】D

【解析】

【详解】根据图片中，美国国旗的显眼、后到、美国兵、其他外国国旗等信息，结合所学知识，分析、判断选项，可知，这次战争应是八国联军侵华，战争结束后签订了《辛丑条约》，中国完全沦为半殖民地半封建社会，D项正确；鸦片战争使中国开始沦为半殖民地半封建社会，是英国对中国的侵略，甲午战争后，列强掀起了瓜分中国的狂潮，使帝国主义侵略势力深入中国内地，是日本对中国的侵略，与图片中多国无关，排除ABC项。故选D项。

12. 在解放战争中，据东北行政委员会民政部 1949 年 3 月 20 日所作的统计，东北解放三年来，参战民工达 3132572 人，担架 306178 付，大车 306718 辆，马 907021 匹。农民群众对解放战争的大力支援是因为（ ）

- A. 抗日战争取得胜利
B. “双十协定”的签订
C. 解放区的土地改革
D. 《土地改革法》颁布

【答案】C

【解析】

【详解】根据材料“东北解放三年来，参战民工达 3132572 人，担架 306178 付，大车 306718 辆，马 907021 匹”结合所学知识可知，解放区的土地改革使广大农民在政治上、经济上翻了身，极大的激发了广大农民革命和生产的积极性，翻身农民踊跃参军参战，为人民解放战争的胜利提供了重要的人力、物力保障，C项正确；抗日战争取得胜利后，人民渴望和平，抗日战争取得胜利不是农民群众对解放战争的大力支援的原因，排除A项；“双十协定”的签订，为中国实现民主统一、和平建国带来了一线曙光，“双十协定”的签订不是农民群众对解放战争的大力支援的原因，排除B项；1950年，中央人民政府颁布《中华人民共和国土地改革法》，《土地改革法》颁布不是农民群众对解放战争的大力支援的原因，排除D项。故选C项。

13. 下图《关起门来打死狗》是张汀先生 漫画作品，该漫画反映的战役（ ）



- A. 使华北全境基本解放
B. 结束了国民党在大陆的统治
C. 解放了长江中下游以北广大地区
D. 解放了东北全境

【答案】D

【解析】

【详解】根据漫画《关起门来打死狗》并结合所学知识可知，1948年9月，中共率先在东北地区发起战略大决战即辽沈战役，该战役围绕东北战略要地锦州展开，解放军迅速攻占锦州，截断了东北敌人向关内的退路，被形象的比喻为“关门打狗”。辽沈战役解放了东北全境，D项正确；平津战役的胜利，使华北全境基本解放，排除A项；渡江战役结束了国民党在大陆的统治，排除B项；淮海战役的胜利，解放了长江中下游以北的广大地区，排除C项。故选D项。

14. 改革开放以来汉族地区与少数民族地区发展不平衡，为防止差距的进一步拉大，国家增加对少数民族地区的投资，在少数民族地区尽量多办一些能源、原材料加工业项目，以保持各民族各地区的协调。这体现了我国（ ）

- A. 关注少数民族的工业发展
B. 实行各民族共同繁荣的政策
C. 重视对少数民族文化的保护
D. 实现了少数民族的当家做主

【答案】B

【解析】

【详解】根据材料“改革开放以来汉族地区与少数民族地区发展不平衡，为防止差距进一步拉大，国家增加对少数民族地区的投资，在少数民族地区尽量多办一些能源、原材料加工业项目，以保持各民族各地区的协调”可知，材料体现了我国实行各民族共同繁荣的政策，B项正确；材料不能体现我国关注少数民族的工业发展，排除A项；材料不能体现我国对少数民族文化的保护，排除C项；材料没有涉及少数民族当家做主，排除D项。故选B项。

15. 下表是《1949—2017年与中国建交国家数量统计表》。从中可以得知

年份	1949年	1959年	1969年	1979年	1989年	1999年	2017年
国家数量	10	34	45	120	136	162	175

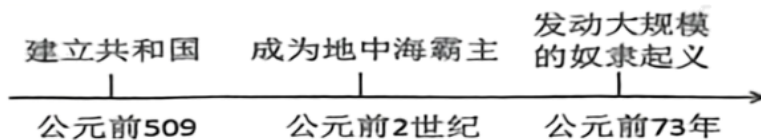
- A. 我国成为建交国家数量最多的国家
B. 改革开放后综合国力大大增强
C. 中国注重发展与周边国家友好关系
D. 我国的国际地位在不断的提高

【答案】D

【解析】

【详解】改革开放以后，中国继续奉行独立自主的和平外交政策，坚持在和平共处五项原则的基础上，由于综合国力的增强，国际地位的提高，我国同其他国家发展友好合作关系，积极开展全方位、多层次的外交活动。中国注重改善和发展与周边国家的睦友好关系，注重加强同发展中国家的政治经济合作，力争中美、中日关系稳定发展，逐步实现中苏关系正常化，积极发展与欧盟国家的关系，据“1949-2017年与中国建交国家数量”及所学知识可知，表中的信息反映了中国国际地位不断提高。D项符合题意；我国成为建交国家数量最多的国家在题干材料中不能体现，排除A项；综合国力增强可以导致中国在国际上的话语权，但是不能导致与中国建交国家的增加，排除B项；中国注重发展与周边国家友好关系在题干材料中不能体现，排除C项。故选D项。

16. 下图是某个国家的发展的重大事件时间数轴示意图，下列关于这个国家说法不正确的是（ ）



- A. 地中海成为这个国家的“内湖”
B. 颁布了欧洲的第一部成文法
C. 公民大会是形式上的最高权力机关
D. 编制新的历法“儒略历”

【答案】A

【解析】

【详解】本题是逆向选择题。根据所学知识可知，公元前509年，建立了罗马共和国，公元前2世纪罗马称霸地中海，公元前73年，以斯巴达克为首的奴隶发动了大规模的起义，因此，这个国家是罗马共和国。公元2世纪，地中海成为罗马帝国的“内湖”，不是在罗马共和国时期，A项符合题意，选择A项；罗马共和国时期，颁布的《十二铜表法》，成为欧洲的第一部成文法，B项不符合题意，排除B项；罗马共和国时期公民大会是形式上的最高权力机关，C项不符合题意，排除C项；公元前46年，罗马统治者凯撒以太阳历为蓝本编制新的历法，称“儒略历”，D项不符合题意，排除D项。故选A项。

17. 从1713年到1792年，英属加勒比海岛屿殖民地向其宗主国大不列颠输送了总值达1.62亿英镑的货物，是同时期大不列颠从中国和印度进口货物总值的一半多。由此可见（ ）

- A. 新航路开辟推动欧洲整体发展
B. 资本原始积累具有野蛮性
C. 殖民掠夺为英国带来大量财富
D. 英国是三角贸易的主导者

【答案】C

【解析】

【详解】根据材料“1713 年到 1792 年，英属加勒比海岛屿殖民地向其宗主国大不列颠输送货物是同时期大不列颠从中国和印度进口货物总值的一半多。”，结合所学知识可知：18 世纪中期，英国通过战争成为了“日不落帝国”，拥有大量殖民地。材料反映了殖民掠夺为英国带来大量财富，因此 C 正确；材料中没有体现欧洲整体发展，故排除 A；材料表述的是殖民地“上贡”的货物多，没有涉及侵略方式，不能体现资本原始积累具有野蛮性，故排除 B；从材料中不能得出英国是三角贸易的主导者，故排除 D。故答案为 C。

18. 张丽同学在校的宣传栏看到以“拉美民族解放运动”为主题的学术讲座海报，下面与本次报告内容相关的历史事件是（ ）

- A. 章西女王抗击英国的殖民者
- B. 玻利瓦尔抗击西班牙的殖民统治
- C. 甘地领导非暴力不合作运动
- D. 埃及纳赛尔领导的民族独立运动

【答案】 B

【解析】

【详解】根据题干关键词“拉美民族解放运动”可知，在拉丁美洲独立运动中，玻利瓦尔率领军队，打败了西班牙军队，解放了西班牙在南美洲的殖民地。因此玻利瓦尔被誉为“南美的解放者”，B 项正确；印度民族大起义中章西女王抗击英国的殖民者，排除 A 项；一战后，亚非拉民族民主运动中有印度甘地领导的非暴力不合作运动，排除 C 项；二战后亚非拉国家的新发展有埃及纳赛尔领导的民族独立运动，排除 D 项。排除 B 项。

19. 罗斯福说：“德日把不帮助轴心国的一切民族和国家当作全体轴心国共同的敌人，这就是他们简单的总战略。所以，只有类似的总战略才能与之抗衡。”罗斯福说的“类似的总战略”指的是（ ）

- A. 苏美英决定成立联合国
- B. 美英等国建立“北约”
- C. 建立国际反法西斯联盟
- D. 美国对德、日等轴心国宣战

【答案】 C

【解析】

【详解】据题干“德日把不帮助轴心国的一切民族和国家当作全体轴心国共同的敌人，这就是他们简单的总战略。所以，只有类似的总战略才能与之抗衡。”和所学知识可知，二战时期的交战双方是法西斯国家和反法西斯国家，德日是法西斯国家，美国、苏联等是反法西斯国家，因此，类似的总战略是“所有对轴心国作战的国家结成国际反法西斯联盟”，C 项正确；成立联合国”是在二战后，排除 A 项；第二次世界大战后，美国为了遏制苏联，维护其在欧洲的主导地位，联合西欧一些国家于 1949 年 4 月 4 日正式成立了北大西洋公约组织，排除 B 项；日本偷袭珍珠港后，美国对德、日等轴心国宣战，二战达到最大规模，排除 D 项。故选 C 项。

20. 有观点认为：“21 世纪全球将出现‘大国群体体系’：美国支配下的北美、一体化的欧洲、日本和中国居突出地位的东亚、印度称雄的南亚、横跨北非和中东的新月形地带，其中北美、欧洲、东亚三大群体将起决定性作用。”据此判断（ ）
- A. 国际政治新秩序已经建立

B. 世界朝多极化方向发展

C. 霸权主义与地区冲突频仍

D. 国际力量已走向失衡

【答案】B

【解析】

【详解】根据材料“美国支配下的北美、一体化的欧洲、日本和中国居突出地位的东亚、印度称雄的南亚、横跨北非和中东的新月形地带，其中北美、欧洲、东亚三大群体将起决定性作用”可知，支配世界的力量呈现了多元化，这体现了世界朝着多极化方向发展，B 项正确；国际政治新秩序还没建立起来，排除 A 项；材料没有涉及霸权主义和地区冲突，排除 C 项；材料没有体现国际力量失衡，排除 D 项。故选 B 项。

二、综合题（本大题共 4 小题，共 40 分。其中 21 题 7 分，22 题 8 分，23 题 12 分，24 题 13 分）

21. 阅读下列材料，回答问题。小清同学学习初中历史后，对中国古代社会经济的发展进行了整理，以下是他的学习笔记：

<div> <div>笔记一</div> <div>主题：中国不同时期农业发展概况</div> <div>内容：</div> <div>1. 原始社会时期：种植农作物、饲养家畜</div> <div>2. 春秋战国时期：铁制农具和牛耕出现并推广</div> <div>3 魏晋南北朝时期：推广和改进犁耕，实行精耕细作</div> <div>4. _____</div> </div>	<div> <div>笔记二</div> <div>主题：_____</div> <div>内容：</div> <div>1. _____</div> <div>—</div> <div>2. _____</div> <div>—</div> <div>3. _____</div> <div>—</div> <div>4. _____</div> <div>—</div> </div>
---	--

- (1) 请补全笔记一内容。

(2) 请根据下列提供的学习内容，参照笔记一完成笔记二。

青铜器的铸造、早市、夜市和草市的出现、四川地区出现纸币“交子”、闻名中外的唐三彩、景德镇成为全国制瓷中心、都城长安成为国际性的大都会、广州和泉州的造船业在世界上居于领先地位、出现晋商和徽商等商帮、形成了商业网。

【答案】(1) 唐朝时期：发明并推广曲辕犁和筒车。

宋朝时期：占城稻得到推广、秧马得到广泛使用、培育出优良品种，提高水稻产量。

清朝时期：扩大耕地面积，出现了“湖广熟，天下足”的谚语（答对一个方面其中一点）

(2) 示例一：

主题：中国不同时期手工业发展概况

内容：1. 夏商周时期：青铜器的铸造

2. 唐朝时期：闻名中外的唐三彩

3. 两宋时期：广州和泉州的造船业在世界上居于领先地位

4. 明朝时期：景德镇成为全国制瓷中心

示例二：

主题：中国不同时期商业发展概况

内容：1. 唐朝时期：都城长安成为国际性的大都会

2. 宋朝时期：早市、夜市和草市的出现；四川地区出现纸币“交子”

3. 明朝时期：出现晋商和徽商等商帮

4. 清朝时期：形成了商业网。

【解析】

【小问 1 详解】

主题：根据材料“中国不同时期农业发展概况”可知，按朝代顺序补充各个朝代农业发展的特点即可，结合所学可知，唐朝时期：发明并推广曲辕犁和筒车。宋朝时期：占城稻得到推广、秧马得到广泛使用、培育出优良品种，提高水稻产量。清朝时期：扩大耕地面积，出现了“湖广熟，天下足”的谚语。

【小问 2 详解】

根据材料“闻名中外的唐三彩、景德镇成为全国制瓷中心”“广州和泉州的造船业在世界上居于领先地位”可知，这些都是与手工业相关的，因此可以确立主题为：中国不同时期手工业发展概况。确定内容的时候从不同朝代的手工业发展状况来进行，如内容：1. 夏商周时期：青铜器的铸造；2. 唐朝时期：闻名中外的唐三彩；3. 两宋时期：广州和泉州的造船业在世界上居于领先地位；4. 明朝时期：景德镇成为全国制瓷中心。根据材料“早市、夜市和草市的出现”“都城长安成为国际性的大都会”等信息都是与商业相关的，可以确立主

题为：中国不同时期商业发展概况。确定内容的时候从不同朝代的商业发展状况来进行，如内容：1.唐朝时期：都城长安成为国际性的大都会；2.宋朝时期：早市、夜市和草市的出现；四川地区出现纸币“交子”；3.明朝时期：出现晋商和徽商等商帮；4.清朝时期：形成了商业网。

22. 阅读下列材料，回答问题。

历史兴趣小组开展以“中外历史上的革命”为主题的探究活动，以下是他们收集的革命领导人物图片组成的图谱：



①孙中山 ②克伦威尔 ③华盛顿 ④列宁 ⑤卡斯特罗

(1) 请从图中任选两位人物，分别简述其突出贡献或主要事迹。

(2) 请在上面图谱中增加两幅相关的领导人物图片（只写人名），并结合所学知识概括决定革命成败的主要因素。

【答案】 (1) ①孙中山领导中国人民赢得辛亥革命的胜利，推翻了两千多年的封建帝制，建立了中华民国。

②克伦威尔领导议会军打败国王的军队，建立资产阶级共和国。

③华盛顿领导美国人民赢得独立战争的胜利，摆脱了英国的殖民统治，促进了美国经济的发展

④列宁领导俄国人民赢得十月革命的胜利，建立世界上第一个社会主义国家。

⑤卡斯特罗领导古巴人民推翻美国支持的独裁政权，使古巴走上社会主义道路。（要求答两位人物的贡献）

(2) 罗伯斯庇尔、林肯、毛泽东等（符合题意即可）；人心向背、领导人正确的决策等（答一点，言之有理即可）

【解析】

【小问 1 详解】

根据人物图片任选两位人物，分别简述其突出贡献或主要事迹。根据所学可知，①孙中山领导中国人民赢得辛亥革命的胜利，推翻了两千多年的封建帝制，建立了中华民国。②克伦威尔领导议会军打败国王的军队，建立资产阶级共和国。③华盛顿领导美国人民赢得独立战争的胜利，摆脱了英国的殖民统治，促进了美国经济的发展④列宁领导俄国人民赢得十月革命的胜利，建立世界上第一个社会主义国家。⑤卡斯特罗领导古巴人民推翻美国支持的独裁政权，使古巴走上社会主义道路。（要求答两位人物的贡献）

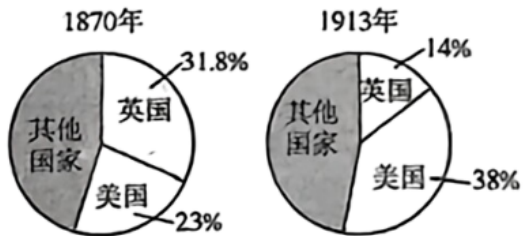
【小问 2 详解】

根据所学知识，在上面图谱中增加两幅相关的领导人物分别是罗伯斯庇尔、林肯、毛泽东等（符合题意即

可)；结合所学知识可知，决定革命成败的主要因素有人心向背；领导人正确的决策等（答一点，言之有理即可）。

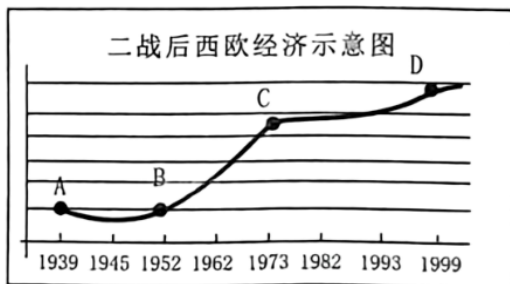
23. 阅读材料，回答问题。

材料一 主要资本主义国家在世界工业生产总值中比重变化示意图



(1) 根据材料一，说明美国经济地位发生了什么变化?并结合所学知识，分析发生这种变化的主要原因。

材料二



(2) 分析材料二，指出西欧经济高速发展是在哪一阶段? (用字母表示，如：A—B) 结合所学，西欧经济发展对世界政治格局产生了怎样的影响?

材料三 二战后，日本国内生产总值的增长 (单位：亿美元)

年份	1952	1958	1965	1970	1976
产值	173	320	1026	1969	5544

(3) 根据材料三回答，战后日本经济出现怎样的现象?

(4) 综合以上材料，你认为怎样才能促进国家经济发展?

【答案】 (1) 变化：美国工业生产总值超过英国，跃居世界第一；

原因：美国内战，废除了黑人奴隶制，维护了国家统一，为经济发展创造了条件；美国在第二次工业革命中走在世界前列，成为工业强国。

(2) 阶段：B—C；

影响：推动世界政治格局向多极化方向发展

(3) 日本自 20 世纪 60 年代起，经济出现高速发展现象。

(4) 发展科学技术、加强国际合作、保持和平稳定环境、进行制度创新等

【解析】

【小问 1 详解】

变化：依据材料一“1870 年，美国占比 23%；英国占比 31.8%，其他国家总占比 45.2%”“1913 年，美国占比 38%，英国占比 14%，其他国家总占比 48%”可知，美国工业生产总值超过英国，居世界第一；

原因：结合所学可知，19 世纪六七十年代第二次工业革命给美国的发展提供了强大的推动力，而这时的美国经历了内战，北方获胜，废除了黑人奴隶制度，维护了国家统一，为美国经济的发展提供了条件。

【小问 2 详解】

阶段：依据材料二“二战后西欧经济发展的曲线示意图”可知，B-C 段西欧经济高速发展；

影响：结合所学可知，20 世纪 50-70 年代，西欧经济持续繁荣，西欧国家之间的联系日益密切，逐渐走上了联合自强以提高国际地位的道路。西欧的联合以及经济的发展和国际地位的提高，对世界格局的走向起到了重要作用：推动世界政治格局向多极化方向发展。

【小问 3 详解】

依据材料三“二战后日本国内生产总值的增长列表”可知，二战后初期，日本国内生产总值高速增长，日本经济高速发展。

【小问 4 详解】

综合以上材料，结合所学所思，国家经济要发展，离不开以下做法：发展科学技术、加强国际合作、保持和平稳定环境、进行制度创新等

24. 为迎接党的“二十大”胜利召开，九年级（1）班的同学们以“颂党恩，跟党走”为主题制作了如下展板，请你完成相关问题。

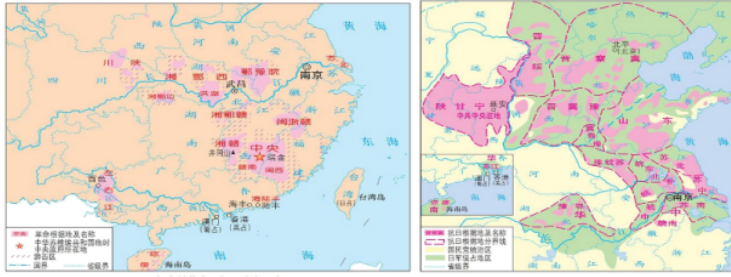
【绘画中承载民族希望】



图一 何红舟、黄发祥《启航——中共一大会议》油画

(1) 请结合史实，简述图中反映的历史故事。（要求：语言简洁，观点正确，思想健康）

【地图中感受道路抉择】



图二 1929-1932 年农村革命根据地分布示意图 图三 1937-1940 年敌后抗日根据地形势图


(2) 图二反映出中国共产党开辟了怎样的革命道路?比较两幅图片并结合所学知识,指出中国共产党的革命中心发生了什么变化?

【诗歌中诠释精神内涵】

<p>《七律.长征》</p> <p>红军不怕远征难,万水千山只等闲。</p> <p>五岭逶迤腾细浪,乌蒙磅礴走泥丸。</p> <p>.....</p>	<p>《七律.人民解放军占领南京》</p> <p>钟山风雨起苍黄,百万雄师过大江。</p> <p>虎踞龙盘今胜昔,天翻地覆慨而慷。</p> <p>...</p>
---	--

(3) 这两首诗歌体现了中国共产党怎样的革命情怀?

【实物中见证历史发展】



图四 1951 年政府向农民颁发土地所有证 图五 1978 年凤阳小岗村 18 位农民的秘密契约

(4) 结合所学知识回答,以上两件实物图片所反映的历史事件有什么共同作用?

(5) 综合以上材料,谈谈你的历史感悟。

【答案】(1) 1921 年 7 月,中共一大在上海召开,参加会议的有毛泽东等 13 人,最后一天转移到浙江嘉兴南湖游船上举行。会议通过了中国共产党第一个党纲,成立了党的中央领导机构中央局,陈独秀当选为书记。一大的召开宣告了中国共产党的正式成立,是中国历史开天辟地的大事,自从有了中国共产党,中国革命的面貌焕然一新。

(2) 革命道路:农村包围城市,武装夺取政权的道路;革命中心:由南方转移到北方。

(3) 坚定的革命信念;大无畏的革命英雄主义精神;不怕艰难险阻、不惜牺牲一切的精神;等等。(答出任意一点)

(4) 调动了农民生产的积极性，促进了农村经济的发展。

(5) 中国共产党代表广大人民的利益；立足实际，开拓创新；革命和建设应该从本国国情出发等。（言之有理，答一点即可）

【解析】

【小问 1 详解】

历史故事：根据材料“《启航——中共一大会议》”可知，反应的是中共一大的情况，结合所学，从一大的时间、内容和意义来阐述即可，如：1921 年 7 月，中共一大在上海召开，参加会议的有毛泽东等 13 人，最后一天转移到浙江嘉兴南湖游船上举行。会议通过了中国共产党第一个纲领，成立了党的中央领导机构中央局，陈独秀当选为书记。一大的召开宣告了中国共产党的正式成立，是中国历史开天辟地的大事，自从有了中国共产党，中国革命的面貌焕然一新。

【小问 2 详解】

道路：根据图二“农村革命根据地分布示意图”和所学可知，开辟了一条符合中国国情的“农村包围城市，武装夺取政权”的道路。

革命中心：根据图二位置在南方，图三“敌后抗日根据地形势图”位置在北方，可知革命中心由南方转移到北方。

【小问 3 详解】

革命情怀：根据材料“红军不怕远征难”得出坚定的革命信念；根据材料“五岭逶迤腾细浪，乌蒙磅礴走泥丸。”得出不怕艰难险阻、不惜牺牲一切的精神；根据材料“虎踞龙盘今胜昔，天翻地覆慨而慷。”得出大无畏的革命英雄主义精神等。

【小问 4 详解】

作用：根据图四“土地证”结合所学可知，反映了 1950-1952 国家实行土地改革，根据图五“1978 年凤阳小岗村”结合所学可知，反映了家庭联产承包责任制，两个历史事件都调动了农民生产的积极性，促进了农村经济的发展。

【小问 5 详解】

感悟：从党对人民的启示、国家发展建设的角度出发，如中国共产党代表广大人民的利益；立足实际，开拓创新；革命和建设应该从本国国情出发等。